

解法 $\boxed{9}$ $-\frac{1}{6} \leq k \leq \frac{1}{2}$.

$\boxed{10}$ $-2 \leq x \leq 2\sqrt{2}$.

四角作らん

$\boxed{\text{カ10講}}$

【9】

x, y が実数値をとって変わるとき, $\frac{x+2y+5}{x^2+y^2+15}$ の最大値と最小値を求めよ。

解答 $\frac{x+2y+5}{x^2+y^2+15}=k$ とおき, 分母を払って x について整理すると

$$kx^2 - x + ky^2 - 2y + 15k - 5 = 0 \quad \dots\dots \textcircled{1}$$

(i) $k=0$ には $x+2y+5=0$ を満たす x, y が対応する。

(ii) $k \neq 0$ のとき, x の実数条件から

$$\text{判別式 } D_1 = 1 - 4k(ky^2 - 2y + 15k - 5) \geq 0$$

$$\therefore 4k^2y^2 - 8ky + 60k^2 - 20k - 1 \leq 0 \quad \dots\dots \textcircled{2}$$

y の 2 次不等式 ② が解をもつための条件は

$$\text{判別式 } D_2 \geq 0 \quad \therefore (4k)^2 - 4k^2(60k^2 - 20k - 1) \geq 0$$

$$\therefore 12k^2 - 4k - 1 = (2k-1)(6k+1) \leq 0 \quad \therefore -\frac{1}{6} \leq k \leq \frac{1}{2} \quad (k \neq 0)$$

(i), (ii) を合わせて $-\frac{1}{6} \leq k \leq \frac{1}{2}$

$k = \frac{1}{2}$ のとき, ② は等号が成り立ち $y = \frac{4k}{4k^2} = \frac{1}{k} = 2$, このとき ① は重複

解をもち $x = \frac{1}{2k} = 1$

同様にして, $k = -\frac{1}{6}$ のとき, $y = -6, x = -3$

答 最大値 $\frac{1}{2}$, 最小値 $-\frac{1}{6}$

【学習テーマ】逆手法

【10】

実数 t が $0 \leq t \leq 2$ を満たすとき、2次方程式 $x^2 - 2tx + 2t^2 - 4 = 0$ の実数解 x のとり得る値の範囲を求めよ。

$$\boxed{-2 \leq x \leq 2\sqrt{2}}$$

【学習テーマ】逆手法、2次方程式の解の配置問題

$$t \text{ を整理 } 2t^2 - 2x \cdot t + x^2 - 4 = 0 \quad \text{--- } \textcircled{*}$$


$\textcircled{*}$ が $0 \leq t \leq 2$ (こゝに) なくとも 1 つの実数解をもつ

条件を満たす。

→ [2] or [2]

$$f(t) = 2t^2 - 2xt + x^2 - 4 \quad \text{よして}$$

(i) [2]



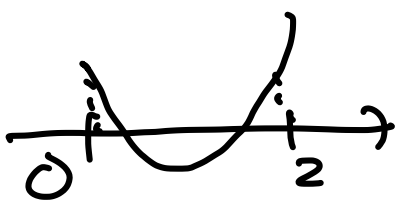
$$f(0) \times f(2) \leq 0$$

$$(x^2 - 4) \times (x^2 - 4x + 4) \leq 0$$

$$-2 \leq x \leq 2$$

(ii) [2]

(重解法)



$$f(0) \geq 0, f(2) \geq 0$$

$$\text{軸 } 0 \leq \frac{x}{2} \leq 2$$

$$\frac{D}{4} = x^2 - 2(x^2 - 4) \geq 0$$

$$\text{よして } 2 \leq x \leq 2\sqrt{2}$$

$$\underline{\underline{-2 \leq x \leq 2\sqrt{2}}}$$

63 C

三角形 ABC において、 $AB = 15$, $BC = 13$, $CA = 8$ である。点 P が辺 AB 上に、点 Q が辺 AC 上にあり、線分 PQ が三角形 ABC の面積を二等分するように動くとき、線分 PQ の長さの最小値を求めよ。

64 C

実数 x に対して、3 辺の長さがそれぞれ $2x - 1$, $x^2 - 2x$, $x^2 - x + 1$ で表される三角形 T がある。このとき、 T の 3 つの内角のうち、最大の角の大きさを求めよ。

入試問題にチャレンジ (8)

三角形 ABC において、頂点 A から直線 BC に下ろした垂線の長さは 1、頂点 B から直線 CA に下ろした垂線の長さは $\sqrt{2}$ 、頂点 C から直線 AB に下ろした垂線の長さは 2 である。このとき、三角形 ABC の面積と、内接円の半径、および、外接円の半径を求めよ。

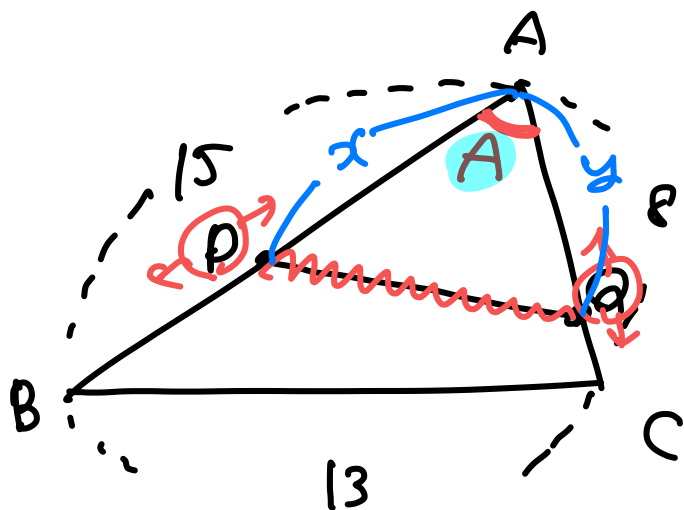
(2010・千葉大学)

63 C

≡ ①

三角形 ABC において、 $AB = 15$, $BC = 13$, $CA = 8$ である。点 P が辺 AB 上に、点 Q が辺 AC 上にあり、線分 PQ が三角形 ABC の面積を二等分するように動くとき、線分 PQ の長さの最小値を求めよ。

二(等)分(面積)



$x = AP$, $y = AQ$ とおく.

$(0 < x \leq 15, 0 < y \leq 8)$

$\Delta APQ = \frac{1}{2} \cdot \Delta ABC$

$\frac{1}{2} x \cdot y \cdot \sin A = \frac{1}{2} \times (\frac{1}{2} \cdot 15 \cdot 8 \cdot \sin A)$

$xy = 60$ ——— ①

• PQ \Rightarrow 余弦 [ΔAPQ]

$PQ^2 = x^2 + y^2 - 2 \cdot x \cdot y \cdot \cos A$

[ΔABC の余弦]

$13^2 = 15^2 + 8^2 - 2 \times 15 \times 8 \times \cos A$

$\therefore \cos A = \frac{1}{2}$

$(A = 60^\circ)$

$\therefore PQ^2 = x^2 + y^2 - xy$ ——— ②

①②から

$xy=60$

$$PQ^2 = x^2 + y^2 - xy$$

$$= (x-y)^2 + xy$$

$$\geq xy = 60$$

$PQ \geq 2\sqrt{15}$

平方完成は

$x=y=2\sqrt{15}$ の時

($0 < x \leq 15$
 $0 < y \leq 8$ 同時成立)

平方完成

①②から ($y = \frac{60}{x}$)

$$PQ^2 = x^2 + y^2 - xy$$

$$= x^2 + \frac{3600}{x^2} - 60$$

$$\geq 2\sqrt{x^2 \cdot \frac{3600}{x^2}} - 60$$

$$= 60$$

$PQ \geq 2\sqrt{15}$

↓
< 以下略
⋮

相加相乗

答 120°

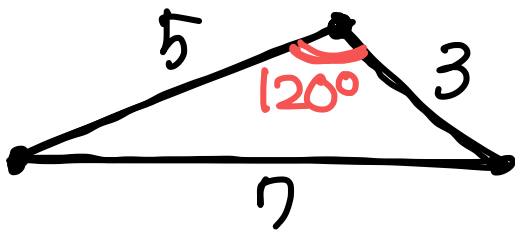
実数 x に対して、3 辺の長さがそれぞれ $2x-1$, x^2-2x , x^2-x+1 で表される三角形 T がある。このとき、 T の 3 つの内角のうち、最大の角の大きさを求めよ。

《参考》 名古屋  $\times 30^\circ$ の型で答える問題

$x=1, 2$ 代入 \times

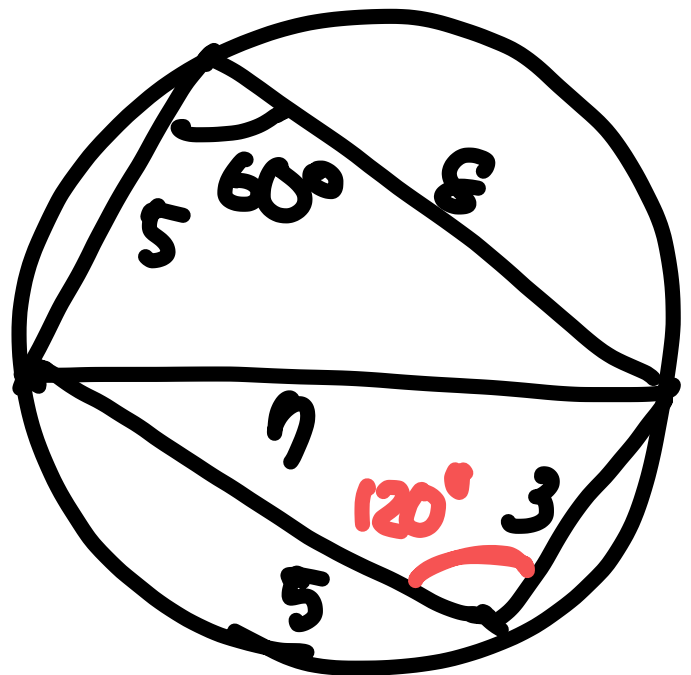
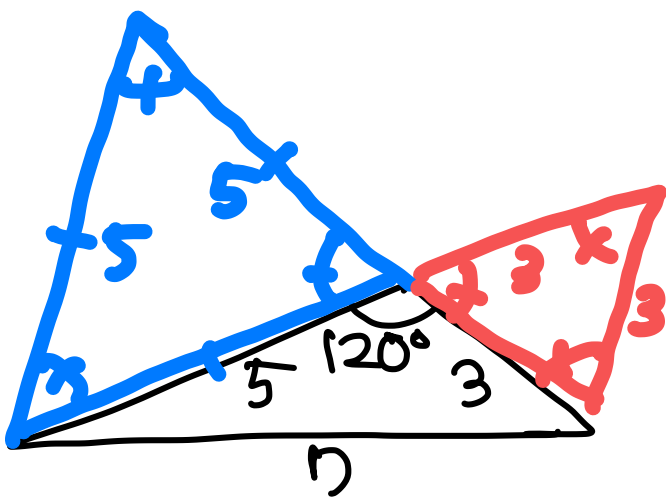
$x=3$ 代入 (値に) $5, 3, 7$

標



余弦定理から
求め方は
 120°

名古屋の答えは **七五三**



$$(x-\frac{1}{2})^2 + \frac{3}{4} > 0$$

実数 x に対して、3 辺の長さがそれぞれ $2x-1$, x^2-2x , x^2-x+1 で表される三角形 T がある。このとき、 T の 3 つの内角のうち、最大の角の大きさを求めよ。

三辺の長さは正 $x > \frac{1}{2}$ の、 $\lceil x > 2$ または $x < 0 \rceil$

つまり $x > 2$

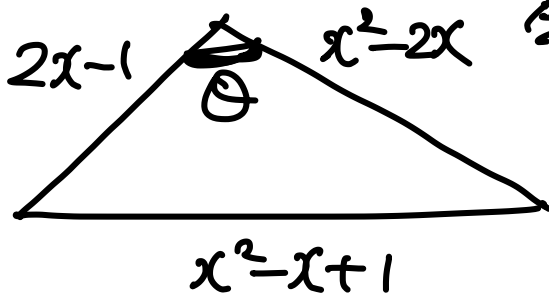
$$\begin{cases} (x^2-x+1) \triangle (2x-1) = x^2-3x+2 = (x-1)(x-2) > 0 \\ (x^2-x+1) \triangle (x^2-2x) = x+1 > 0 \end{cases}$$

よ、最大の角は x^2-x+1

最大の角と最大の辺は対応するから、

余弦定理

図のように θ をとる



$$\cos \theta = \frac{(2x-1)^2 + (x^2-2x)^2 - (x^2-x+1)^2}{2 \cdot (2x-1)(x^2-2x)}$$

$$\begin{aligned} &= 2 \cdot (x^2-2x)^2 - (x^2-x+1)^2 \\ &= (2x^2-3x+1)(-x-1) = -(2x-1)(x-1)(x+1) \end{aligned}$$

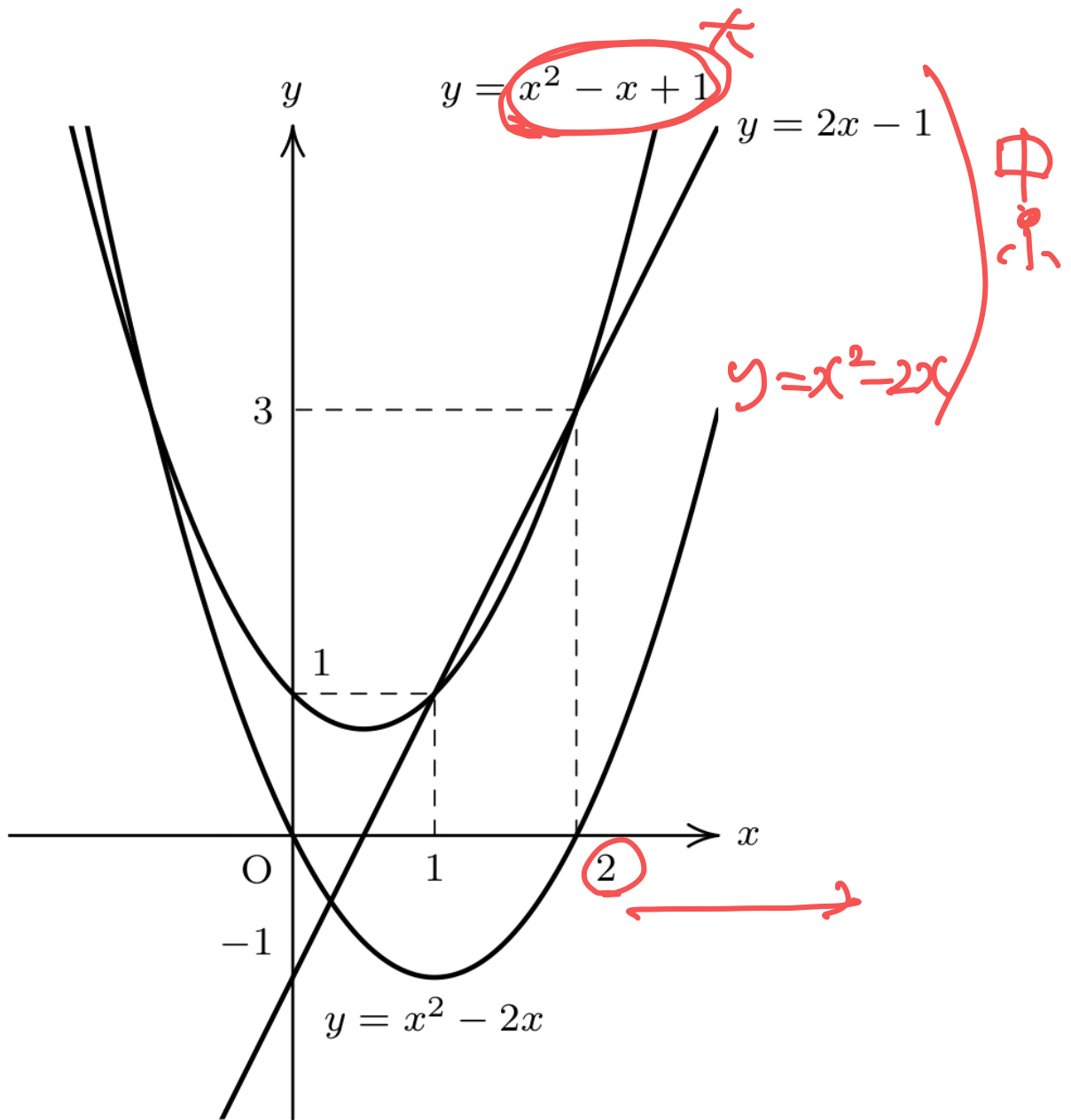
$$\begin{aligned} \text{(分子)} &= (2x-1) \left\{ (2x-1) - (x-1)(x+1) \right\} \\ &= (2x-1) \left\{ (2x-1) - (-x^2+2x) \right\} \end{aligned}$$

$$= (2x-1)(x^2-2x)$$

$$\therefore \cos \theta = -\frac{1}{2} \text{ or } 4$$

$$\theta = 120^\circ$$





$$y = x^2 - x + 1$$

$$y = 2x - 1$$

$$y = x^2 - 2x$$

$$y = x^2 - 2x$$

3

1

1

2

-1

O

x

y

入試問題にチャレンジ (8)

三角形 ABC において、頂点 A から直線 BC に下ろした垂線の長さは 1、頂点 B から直線 CA に下ろした垂線の長さは $\sqrt{2}$ 、頂点 C から直線 AB に下ろした垂線の長さは 2 である。

このとき、三角形 ABC の面積と、内接円の半径、および、外接円の半径を求めよ。

【解答】

面積利用

(2010・千葉大学)

BC = a, CA = b, AB = c とすると、条件より、

$$\triangle ABC = \frac{1}{2} \cdot 1 \cdot a, \quad \dots \textcircled{1}$$

$$\triangle ABC = \frac{1}{2} \cdot \sqrt{2} \cdot b, \quad \dots \textcircled{2}$$

$$\triangle ABC = \frac{1}{2} \cdot 2 \cdot c, \quad \dots \textcircled{3}$$

$$\triangle ABC = \frac{1}{2} bc \sin A, \quad \dots \textcircled{4}$$

①, ②, ③より、

$$a = 2c, \quad b = \sqrt{2}c.$$

ここで、内接円の半径を r とすると、

$$\triangle ABC = \frac{1}{2}(a + b + c)r$$

であるから、

$$\frac{1}{2}(2c + \sqrt{2}c + c)r = \frac{1}{2} \cdot 2 \cdot c.$$

したがって、

$$r = \frac{2}{3 + \sqrt{2}} = \frac{2(3 - \sqrt{2})}{7}.$$

また、②, ④より、

$$\sqrt{2} = c \sin A, \quad \dots \textcircled{5}$$

さらに、三角形 ABC に余弦定理を用いると、

$$\cos A = \frac{(\sqrt{2}c)^2 + c^2 - (2c)^2}{2 \cdot \sqrt{2}c \cdot c} = -\frac{\sqrt{2}}{4}$$

であるから、

$$\sin A = \sqrt{1 - \cos^2 A} = \frac{\sqrt{14}}{4}.$$

⑤より、

$$\frac{\sqrt{14}}{4}c = \sqrt{2}$$

であるから、

$$c = \frac{4\sqrt{7}}{7}.$$

③より、

$$\triangle ABC = \frac{1}{2} \cdot 2 \cdot \frac{4\sqrt{7}}{7} = \frac{4\sqrt{7}}{7}.$$

さらに、三角形 ABC の外接円の半径を R とし、正弦定理を用いると、

$$2R = \frac{a}{\sin A}$$

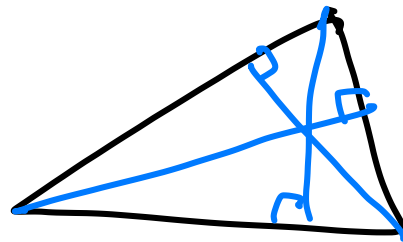
であるから、

$$R = \frac{a}{2 \sin A} = \frac{2 \cdot \frac{4\sqrt{7}}{7}}{2 \cdot \frac{\sqrt{14}}{4}} = \frac{8\sqrt{2}}{7}.$$

コメント

問題は単純なのですが、条件式が多いために、整理整頓が苦手な生徒には難しく見えるものでしょうね。

逆に図形的な落とし所がない問題なので、式の組合せがうまくいった生徒は満点をとれる問題です。差がつく問題の一例だと思います。

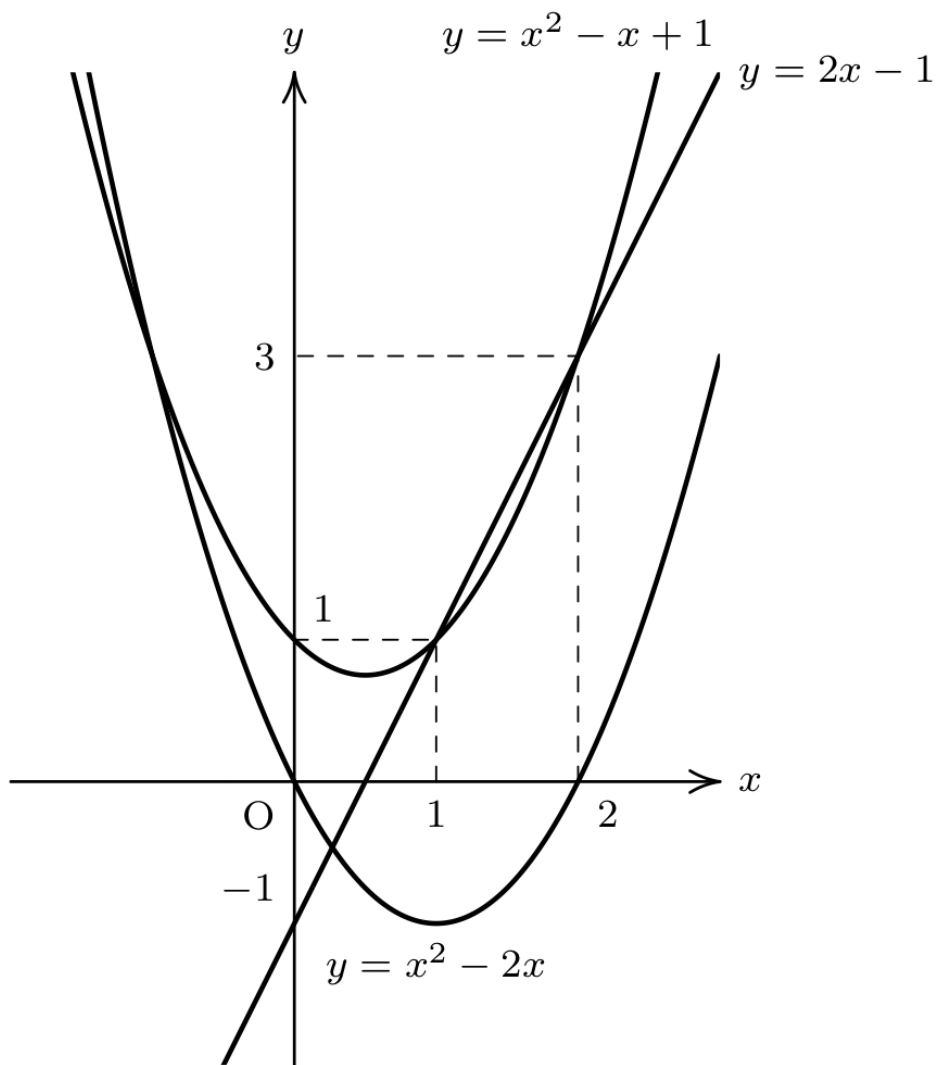


SMB, SMC 利用

$$r = \frac{2(3 - \sqrt{2})}{7}$$

$$\triangle ABC = \frac{4\sqrt{7}}{7}$$

$$R = \frac{8\sqrt{2}}{7}$$



第9講

三角比(3)

1 四角形の面積

四角形 ABCD の面積 S は、対角線 AC, BD のなす角を θ とすると、

$$S = \frac{1}{2} AC \cdot BD \sin \theta$$

2 円に内接する四角形の対角の和

四角形 ABCD が円に内接する必要十分条件は、対角の和が 180° である。すなわち、

$$\angle A + \angle C = \angle B + \angle D = 180^\circ$$

3 球の体積と表面積

半径 r の球の体積を V , 表面積を S とすると、

$$V = \frac{4}{3} \pi r^3, \quad S = 4\pi r^2$$

65 A

平行四辺形 $ABCD$ において、 $AB = 4$, $BC = 5$, $BD = 7$ のとき、平行四辺形 $ABCD$ の面積を求めよ。

66 A

円 K に内接する四角形 $ABCD$ において、 $AB = 5$, $BC = 3$, $CD = 2$, $\angle ABC = 60^\circ$ とする。

- (1) 対角線 AC の長さを求めよ。さらに、円 K の半径を求めよ。
- (2) 辺 DA の長さを求めよ。
- (3) 四角形 $ABCD$ の面積を求めよ。

67 A

次の間に答えよ。

- (1) 半径 1 の円に内接する正六角形の面積を求めよ。
- (2) 半径 1 の円に外接する正六角形の面積を求めよ。

68 B

四角形 ABCD の 2 つの対角線の長さが $AC = 1$, $BD = 2$ であり, それらが交点をもち, なす角が 30° であるとき, 四角形 ABCD の面積を求めよ.

69 B

円に内接する四角形 ABCD において, $AB = 1$, $BC = 2$, $CD = 3$, $DA = 4$ であり, $\angle DAB = \theta$ とする.

- (1) $\cos \theta$ の値, および, 対角線 BD の長さを求めよ.
 (2) 四角形 ABCD の面積を求めよ.

$$\boxed{69B} \quad (1) \quad \cos \theta = \frac{1}{5} \quad (2) \quad S = 2\sqrt{6}$$

【解法】 円の内接四角形の性質 & 二辺夾角

$$BD = \sqrt{\frac{22}{5}}$$

$$\left[\begin{array}{l} \cos(180^\circ - \theta) \\ = -\cos \theta \end{array} \right]$$

70 B

一辺の長さが 1 の正四面体の体積を求めよ.

71 C

$n \geq 3$, $r > 0$ とする.

- (1) 半径 r の円に内接する正 n 角形の面積を r と n を用いて表せ.
 (2) 半径 r の円に外接する正 n 角形の面積を r と n を用いて表せ.

72 C

半径 r の球面上に異なる 4 点 A, B, C, D がある.

$$AB = CD = \sqrt{2}, \quad AC = AD = BC = BD = \sqrt{5}$$

であるとき, r の値を求めよ.

入試問題にチャレンジ (9)

半径 r の球面上に 4 点 A, B, C, D がある. 四面体 ABCD の各辺の長さは,

$$AB = \sqrt{3}, \quad AC = AD = BC = BD = CD = 2$$

を満たしている. このとき, r の値を求めよ.

(2001・東京大学)

2019 年度 FG 数学 IAIB 【解答】 9 講

6 5 A $S = 8\sqrt{6}$

【解法】 平行四辺形の性質

- ① 平行四辺形の対角線は互いに他を二等分する, ② 2 対辺の長さが等しい,
 ③ 2 対角の大きさが等しい, ④ 対辺の長さが等しく, かつ平行。

6 6 A (1) $R = \frac{\sqrt{57}}{3}$ (2) $DA = 3$ (3) $S = \frac{21\sqrt{3}}{4}$

【解法】 円の内接四角形の性質 & 二辺夾角

6 7 A (1) $S = \frac{3\sqrt{3}}{2}$ (2) $S = 2\sqrt{3}$

【解法】 正 n 角形 \Rightarrow 中心角 n 等分して二等辺三角形へ。

6 8 B $S = \frac{1}{2}$

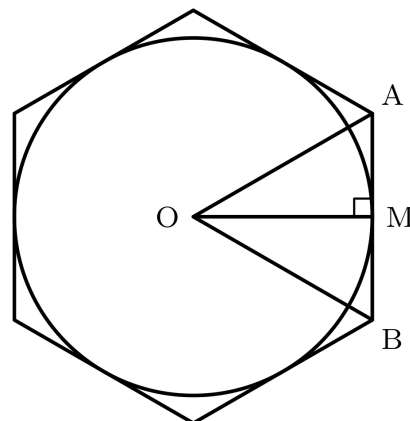
6 9 B (1) $\cos \theta = \frac{1}{5}$ (2) $S = 2\sqrt{6}$

【解法】 円の内接四角形の性質 & 二辺夾角

7 0 B $\frac{\sqrt{2}}{12}$

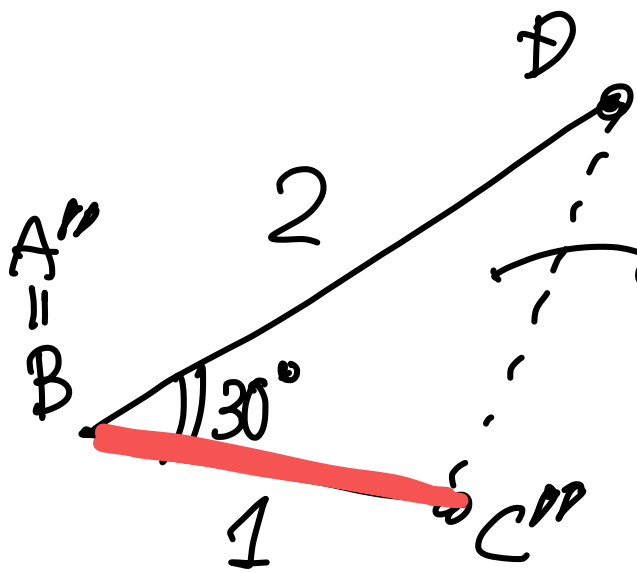
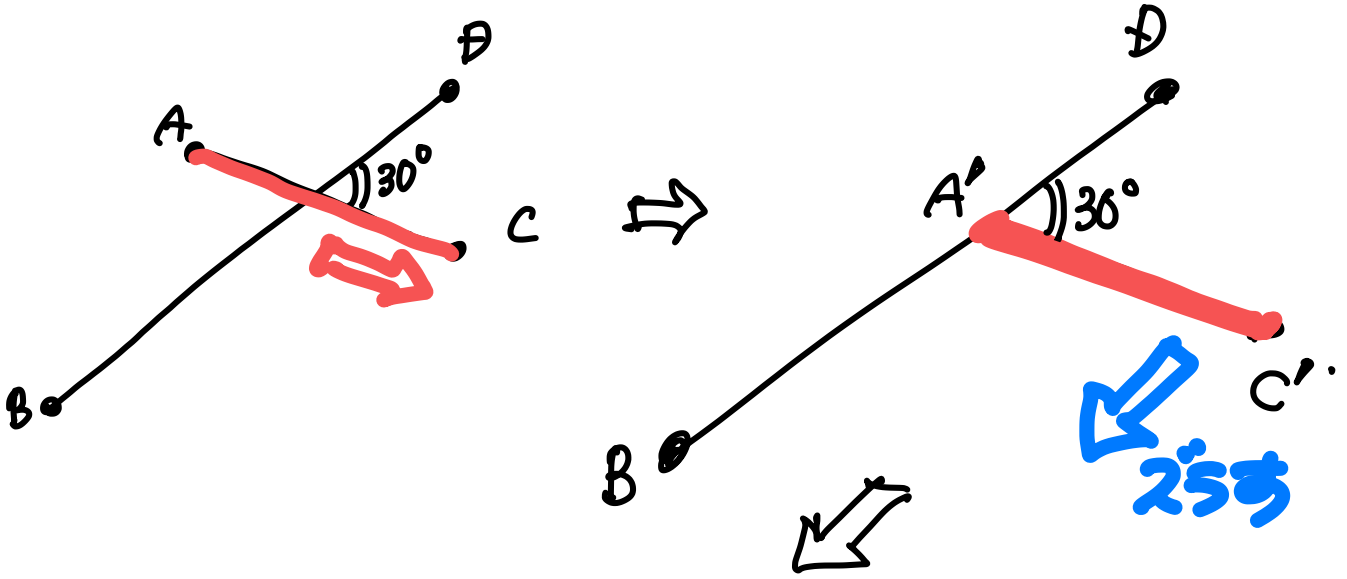
【解法】 正四面体の基本情報

- (1) (2) (3)



等積変形

$AC=1, BD=2$



$$S' = \frac{1}{2} \cdot 2 \cdot 1 \cdot \sin 30^\circ$$

$$= \frac{1}{2}$$

$$\frac{\sqrt{6}}{12}$$

一辺の長さが1の正四面体の体積を求めよ。

空間図形

最短

① 2次元だけ平面に帰着せよ

ある面, 断面, 展開図
射影

② 別の図形に埋め込む

正四面体

一辺の長さを a とおくと

① 高さ $h = \sqrt{\frac{2}{3}} a$

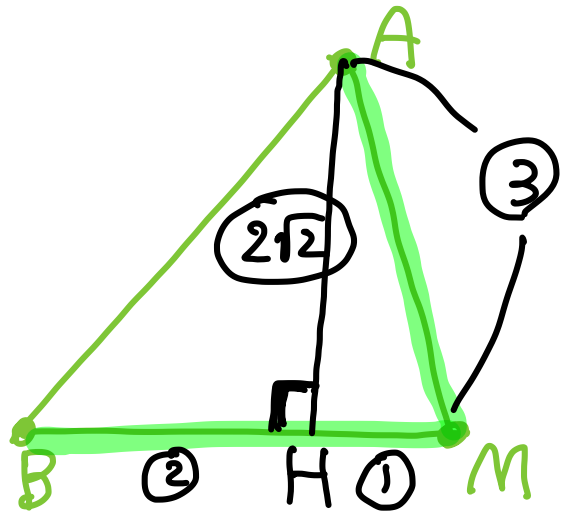
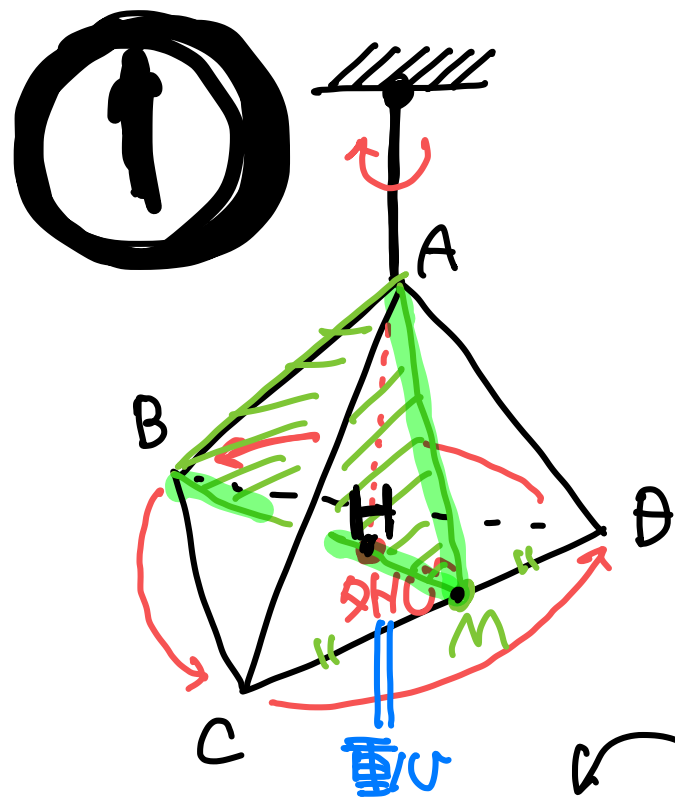
② 内接球半径 $r = \frac{1}{4} h$

③ 外接球半径 $R = \frac{3}{4} h$

中心から

[ルートの中身は呼吸商 $\frac{CO_2}{O_2}$]

正四面体 ⇒ つるぎ



$$AM = BM = \frac{\sqrt{3}}{2}a$$

$$\text{高さ } h = AH = \frac{2\sqrt{2}}{3} \times AM$$

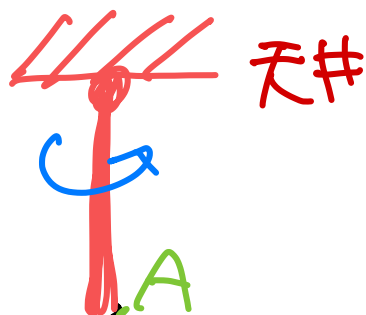
$$= \sqrt{\frac{2}{3}}a$$

回転対称性あり

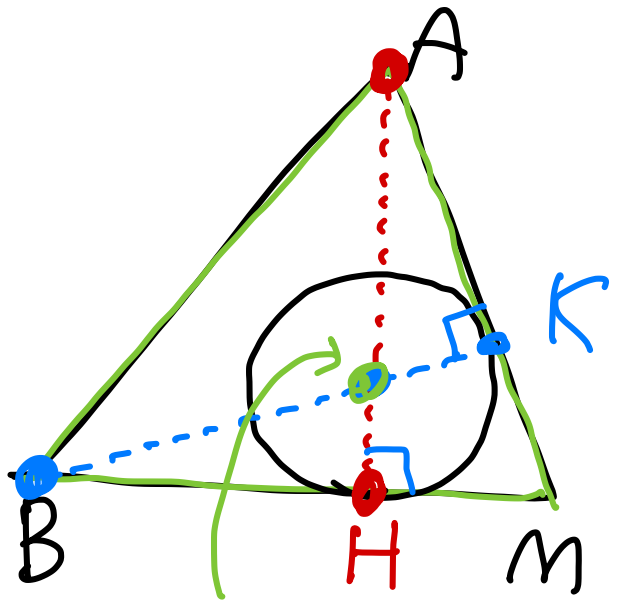
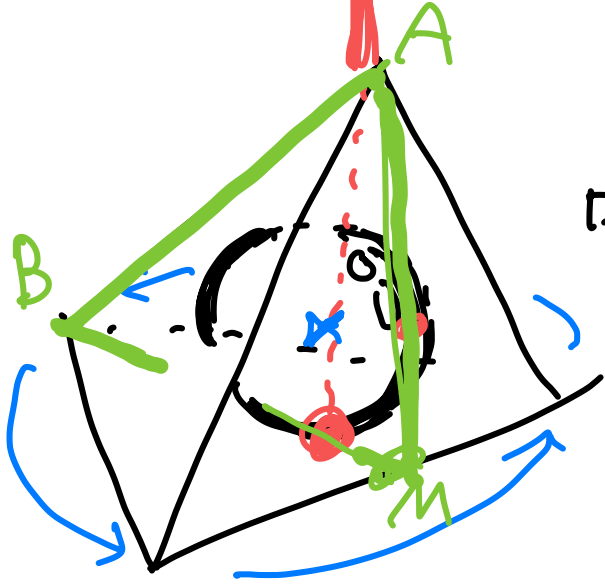
Aが△BCDに下3つに
~~垂線~~の足Hは
 △BCDの外心
 △BCDは正三角形だから
 Hは△BCDの重心
 $BH : HM = 2 : 1$

注 正三角形では
 内・外・垂・重心が全て一致

2



つるす

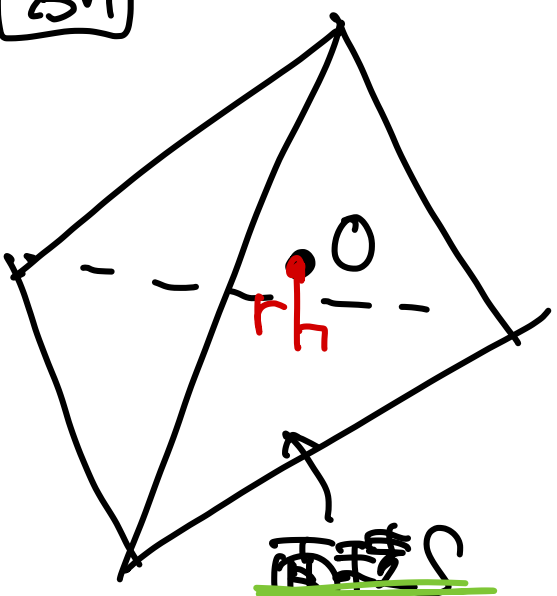


内接球中心

Xネオウの定理
相似

$$r = \frac{1}{4}h$$

面



体積

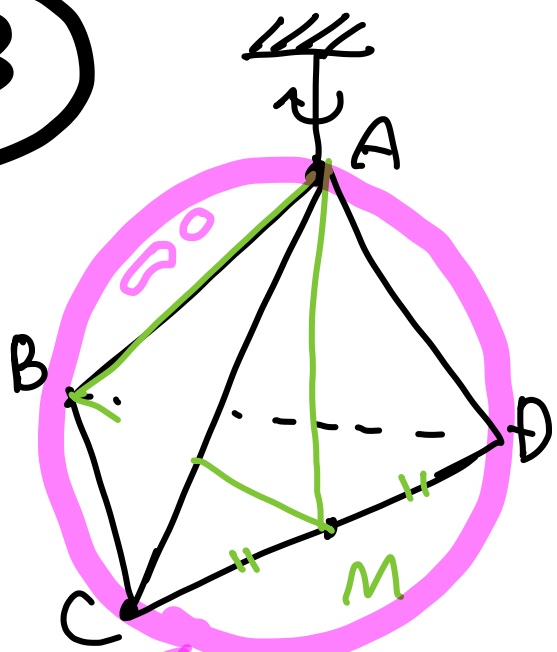
$$V = \frac{1}{3}SR$$
$$V = \left(\frac{1}{3}Sr\right) \times 4$$

$$r = \frac{1}{4}R$$

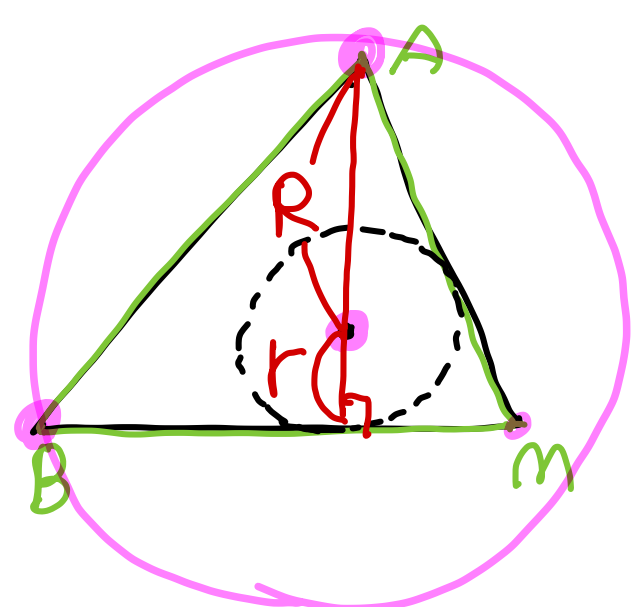
2次元
3次元

内接円半径 \Rightarrow 面積 3分割
内接球半径 \Rightarrow 体積 4分割

3




外接球 (10.2.10)
半径 R



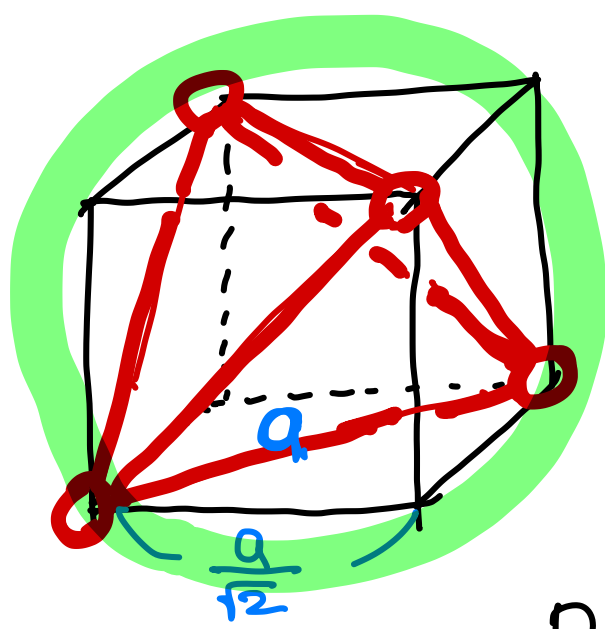
$$R + r = h$$

(2) $R = \frac{3}{4}h$

$$R = \frac{3}{4}h = \frac{3}{4} \times \sqrt{\frac{2}{3}}a = \frac{\sqrt{6}}{4}a$$



正四面体 \rightarrow 立方体に埋め込む
 $\sim a$ $\sim \frac{a}{\sqrt{2}}$



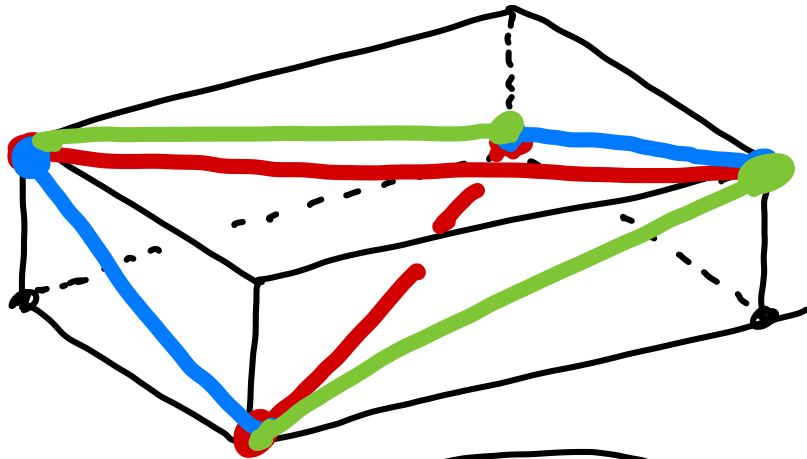
正四面体と立方体との
外接球は共通.

直径 $2R$ が立方体の
対角線の長さと一致.
 $\sqrt{3} \times \frac{a}{\sqrt{2}}$

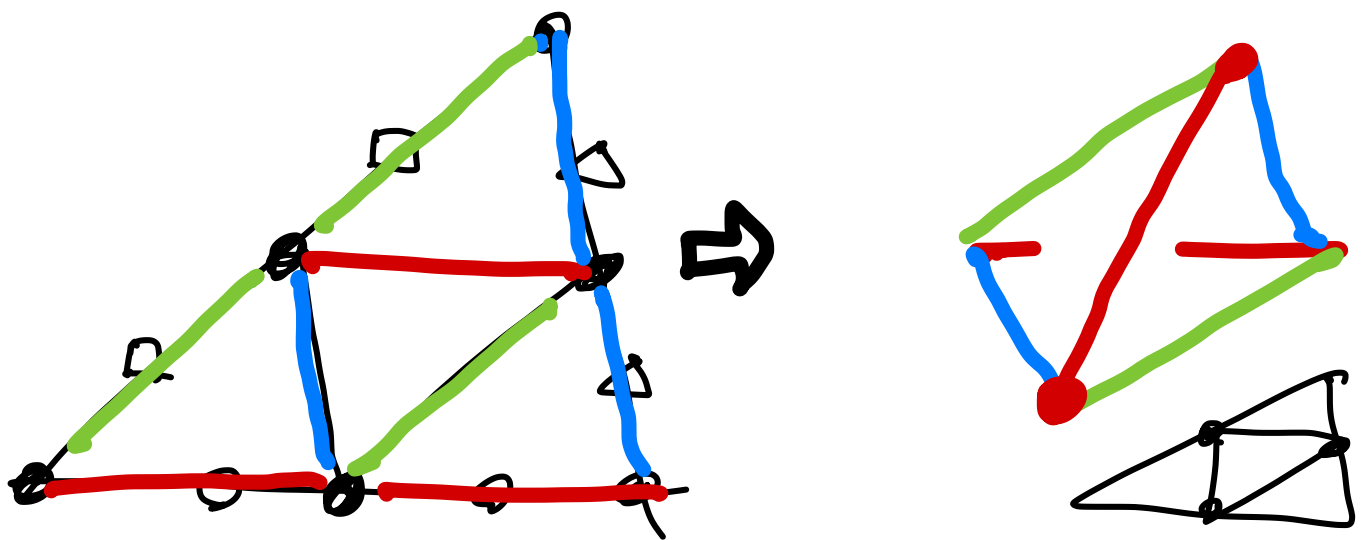
$$R = \frac{\sqrt{3}}{2\sqrt{2}}a = \frac{\sqrt{6}}{4}a$$

72

正四面体 \Rightarrow 立方体に埋めこみ
等面四面体 \Rightarrow 直方体に埋めこみ
 ① 作り方



等面四面体: 各面が合同な四面体のこと



どんな Δ でも中心と、2線が交り立つと
 等面四面体が2つある (Yes or **No?**)

答 鋭角三角形に限る

72 C

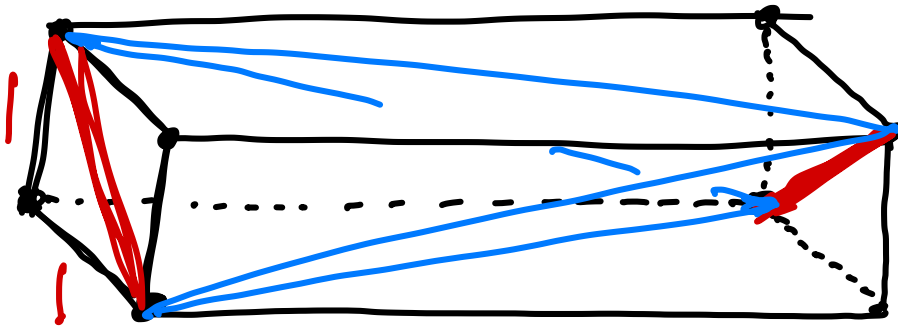
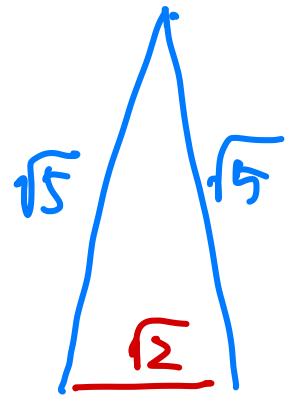
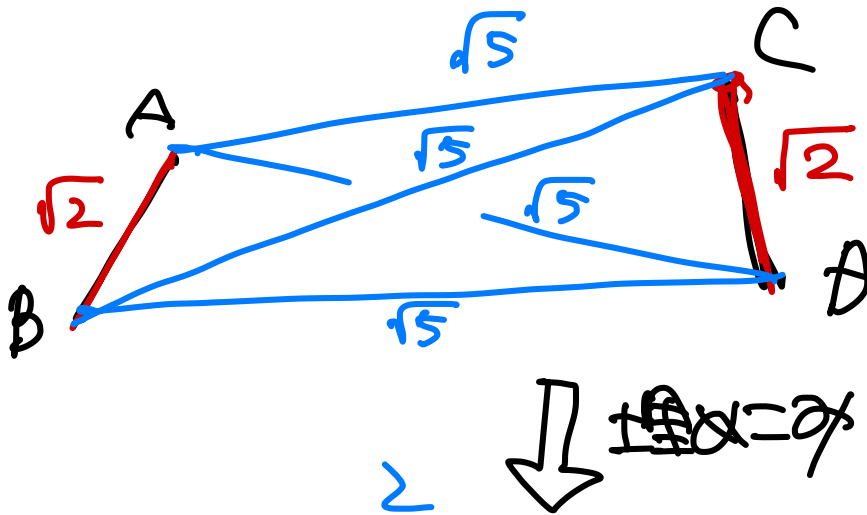
四面体 ABCD の外接球 実は平面.

半径 r の球面上に異なる 4 点 A, B, C, D がある.

$AB = CD = \sqrt{2}$, $AC = AD = BC = BD = \sqrt{5}$

であるとき, r の値を求めよ.

四面体 ABCD の外接球
↓
四面体 ABCD の外接球



対角線の長さ = 外接球半径.

$$\sqrt{6} = 2r$$

$$\therefore r = \frac{\sqrt{6}}{2}$$

別解


四面体 ABCD

2019年度 FG 数学 IAIB 【解答】 10 講

7 3 A (1) 4.3 (2) 4.5 (3) 5

【解法】 代表値の確認

7 4 A 中央値 90, 最小値 85, 最大値 120, 第 1 四分位数 87, 第 3 四分位数 113 より, 次図



【解法】 四分位数, 箱ひげ図の確認

7 5 A 平均値 13, 分散 9.2, 標準偏差 $\sqrt{9.2} = 3.03 \approx 3.0$

【解法】 分散, 標準偏差の確認。開平方。

7 6 B (1) $a = 542$ (2) 26 通り

【解法】 仮平均を用いると楽?

7 7 B 平均 71, 分散 7

【解法】 分散の公式

7 8 B 国語の平均 6, 分散 4, 数学の平均 5, 分散 5, また共分散 $-\frac{8}{5}$ 。よって相関係数 -0.36

以上より, (やや) 負の相関が認められる。

【解法】 相関係数とその意味の確認